

乘數應用題練習 1

(小學二年級適用)

姓名：_____

日期：_____

列式作答以下題目

- 1 小明一次過吃了 5 袋糖果，如果每袋糖果有 5 粒，小明共吃了糖果多少粒？

2



左圖的機械人底部有兩個輪，小明有 6 個這樣的機械人，共有多少個輪？

3



一輛吉普車最多可載 5 人



一輛私家車最多可載 4 人

- (a) 小明的爸爸有 7 輛私家車，最多可載多少人？

3 (b) 小強有 4 輛吉普車，小華有 5 輛私家車，誰的總載客人數較多？

答：小強的總載客人數：_____

小華的總載客人數：_____

因此(小強較多/小華較多/兩人的總載客人數一樣)。(圈出正確答案)

4 貨倉裏的貨物如下：




(a) 一個紙箱裏有 8 個花瓶，小偷把一些紙箱拆開，並偷走箱裏的花瓶。小偷共偷走了多少個花瓶？

4 (b) 貨倉原有多少個花瓶？

4 (c)小偷離開後，貨倉還有多少個花瓶？

5



老師打算買糖給全班同學，他可選擇買 7 盒波板糖或 5 盒紙包糖，若一班有 30 人，應選擇哪款糖？

答：

因為 5 盒紙包糖共有 _____，

而 7 盒波板糖只有 _____，

所以選擇(波板糖 / 紙包糖)(圈出正確答案)才足夠分給全班同學。

第三頁

完

乘數應用題練習 1-答案(小學二年級適用)

1 小明一次過吃了 5 袋糖果，如果每袋糖果有 5 粒，小明共吃了糖果多少粒？

$$5 \times 5$$

$$= 25(\text{粒})$$

∴小明共吃了糖果 25 粒

2




左圖的機械人底部有兩個輪，小明有 6 個這樣的機械人，共有多少個輪？

$$2 \times 6$$

$$= 12(\text{個})$$

∴共有 12 個輪

3

	
一輛吉普車最多可載 5 人	一輛私家車最多可載 4 人

(a)小明的爸爸有 7 輛私家車，最多可載多少人？

$$7 \times 4$$

$$= 28(\text{人})$$

∴最多可載 28 人

3 (b)小強有 4 輛吉普車，小華有 5 輛私家車，誰的總載客人數較多？

答：小強的總載客人數： $4 \times 5 = 20$

小華的總載客人數： $5 \times 4 = 20$

因此(小強較多/小華較多/兩人的總載客人數一樣)。(圈出正確答案)

答案第一頁

4 貨倉裏的貨物如下：



(a) 一個紙箱裏有 8 個花瓶，小偷把一些紙箱拆開，並偷走箱裏的花瓶。

小偷共偷走了多少個花瓶？

$$4 \times 8 \\ = 32(\text{個})$$

∴ 小偷共偷走了 32 個花瓶

4 (b) 貨倉原有多少個花瓶？

$$9 \times 8 \\ = 72(\text{個})$$


∴ 貨倉原有 72 個花瓶

4 (c) 小偷離開後，貨倉還有多少個花瓶？

$$5 \times 8 \\ = 40(\text{個})$$

∴ 貨倉還有 40 個花瓶

5



老師打算買糖給全班同學，他可選擇買 7 盒波板糖或 5 盒紙包糖，若一班有 30 人，應選擇哪款糖？

答：因為 5 盒紙包糖共有 $5 \times 6 = 30(\text{顆})$ ，而 7 盒波板糖只有 $7 \times 4 = 28(\text{枝})$ ，所以選擇(波板糖 / 紙包糖)(圈出正確答案)才足夠分給全班同學。

答案第二頁

完