

四邊形練習 1


(小學四年級適用)

姓名：_____

日期：_____ 分數：_____ / 30

判斷題(每題 1 分)

判斷以下描述是否正確，正確的方格中寫上「✓」，不正確則寫上「✗」。

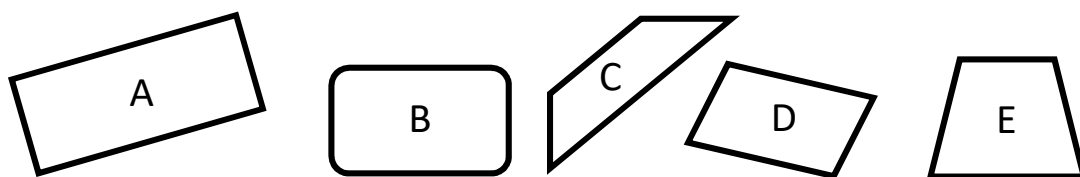


- 例 圖 A 是三角形
1. 圖 A 有兩組平行線
2. 圖 B 是個菱形
3. 圖 A 只有兩隻直角
4. 圖 B 四邊長度相等

✗

分類題(每題 2 分，全對才給分。)

把下列圖形分類



1. 只有一組平行線的圖形：_____
2. 有兩組平行線的圖形：_____
3. 梯形：_____
4. 長方形：_____
5. 平行四邊形：_____

四邊形練習 1

(小學四年級適用)

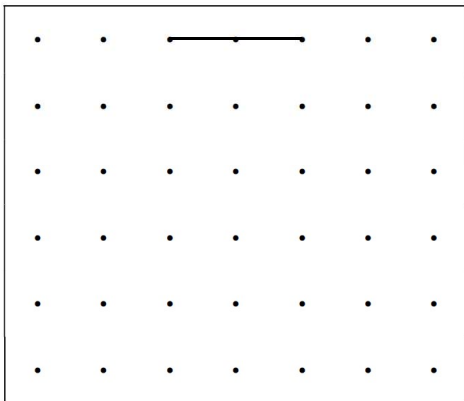
短答題(每題 2 分，部份題目要加上單位。)

1. 平行四邊形是否有四組平行線? 1. _____
2. 菱形有多少條長度相等的線? 2. _____
3. 梯形內最多有多少個直角? 3. _____
4. 長方形有多少個直角? 4. _____
5. 平行四邊形有多少組長度相等的線? 5. _____
6. 四邊形可否由曲線組成? 6. _____

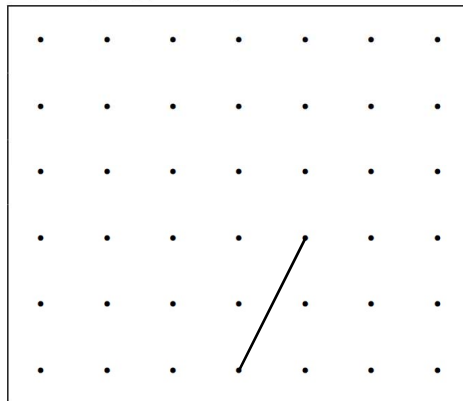
畫圖題(每題 2 分，全對才給分。)

按照題目要求，利用圖中已有的線條繪畫出指定圖形。

1. 畫出只有一組平行線的四邊形



2. 畫出四邊長度相等且沒有直角的四邊形

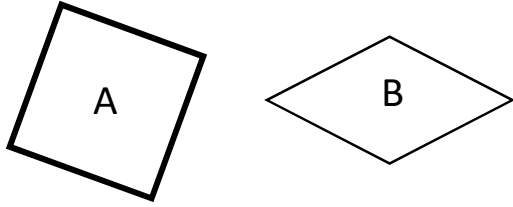


完

四邊形練習 1-答案(小學四年級適用)

判斷題(每題 1 分)

判斷以下描述是否正確，正確的方格中寫上「✓」，不正確則寫上「×」。



例 圖 A 是三角形

×

1. 圖 A 有兩組平行線

✓

2. 圖 B 是個菱形

✓

3. 圖 A 只有兩隻直角

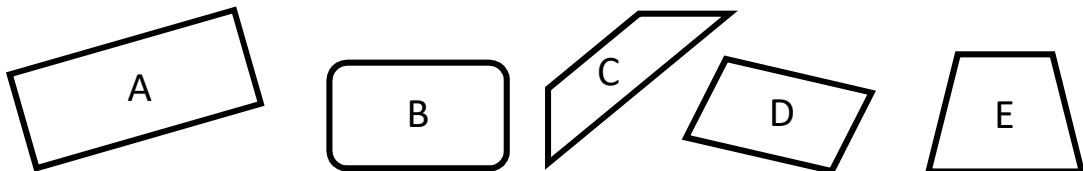
×

4. 圖 B 四邊長度相等

✓

分類題(每題 2 分，全對才給分。)

把下列圖形分類



1. 只有一組平行線的圖形：C, E

2. 有兩組平行線的圖形：A, B, D

3. 梯形：C, E

4. 長方形：A

5. 平行四邊形：D

四邊形練習 1-答案(小學四年級適用)

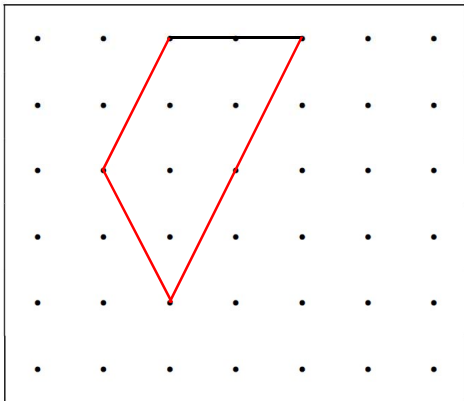
短答題(每題 2 分，部份題目要加上單位。漏寫單位扣 1 分)

- | | |
|---------------------|--------|
| 1. 平行四邊形是否有四組平行線? | 1. 否 |
| 2. 菱形有多少條長度相等的線? | 2. 4 條 |
| 3. 梯形內最多有多少個直角? | 3. 2 個 |
| 4. 長方形有多少個直角? | 4. 4 個 |
| 5. 平行四邊形有多少組長度相等的線? | 5. 2 組 |
| 6. 四邊形可否由曲線組成? | 6. 不可 |

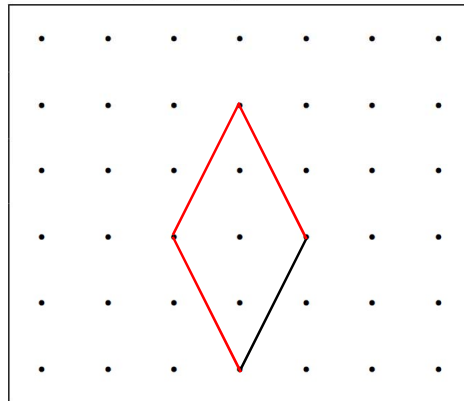
畫圖題(每題 2 分，全對才給分。)

按照題目要求，利用圖中已有的線條繪畫出指定圖形。

1. 畫出只有一組平行線的四邊形



2. 畫出四邊長度相等且沒有直角的四邊形



(答案僅供參考，其他合理答案亦可接受。)

完